

1. Melyik római császár kapta a nevét egy lábbeliről?

1 pont

Caligula

2. Melyik isten viselt szárnyas lábbelit? (Az isten latin nevét írjátok be!)

1 pont

Mercurius

3. Melyik lábbeli kapta a nevét a talpról?

1 pont

calceus

crepida

solea

caliga

4. Igaz vagy hamis?

4 pont

igaz

hamis

Sarut csak férfiak hordtak Rómában.

A lábbeliket a varga (sutor) készítette.

A crepida görög lábbeli volt, csak a köztársaságkor végén jött divatba Rómában.

Magasszárú cipőt Rómában nem hordtak.

5. Melyik lábbeli kinek a lábára kerül? Egyvalaki mezítláb marad, őt jelöljétek X-
szel! 7 pont



A B C D E F X

Egyiptomi fiú a
Kr. e. 15.
században

Egyiptomi
kisgyerek a Kr.
u. 4. században

Ciprusi kislány a
Kr. e. 8.
században

Etruszk férfi a
Kr. e. 6.
században

Görög hölgy a
Kr. e. 3.
században

Előkelő római

holgy a Kr. u. 2.

században



Római

hagyományörző

a Kr. u. 21.

században



században

Kölyökidő

6. Attikában, ha fiúgyerek született, tettek az ajtó elé.

1 pont

- zellerkoszorút
- babérkoszorút
- olajágkoszorút

7. Attikában, ha lánygyerek született, tettek az ajtó elé.

1 pont

- gyapjút
- rokkát
- orsót

8. Plutarkhosz szerint Rómában a fiúgyerekeknek napos korukban adtak 1 pont nevet.


- 9
- 8
- 7

9. Plutarkhosz szerint Rómában a lánygyerekekneknapos korukban 1 pont adtak nevet.

- 9
- 8
- 7

10. Ezen az ábrázoláson II. Ramszeszt láthatjátok. Mi utal arra, hogy a fáraó még gyermek? (Több választ is megjelölhettek.)

1 pont



- az öltözete
- a hajviselete
- a koronája
- a kéztartása
- a felirat
- a karkötője

11. A képen egy római kisfiú látható nyakába akasztott bullával. Mi volt a bulla funkciója? 1 pont



- dísz (ékszer)
- amulett
- ismertetőjel
- emléktárgy

12. Mikor vették le a római fiúk a bullát? 1 pont

- amikor iskolába kezdtek járni
- amikor megházasodtak
- amikor felnőtté avatták őket
- amikor először háborúba mentek

13. Amikor levették a bullát, kinek ajánlották fel?

1 pont

- a házi Laroknak (isteneknek)
- halott őseiknek a temetőben
- Juno istennőnek
- kiskorú testvéreiknek adták

14. Mit jelenthet még a 'bulla' szó?

1 pont

- köldök
- buborék
- ajtógomb
- szemgolyó

15. A középkorban ezt a szót más jelentésben is használták. Miről kapta a nevét az „Aranybulla”? 1 pont



a pecsétről

Egy előkelő tisztségviselő élete

Az alábbi szöveg szerzője arról beszél, hogy egész életét helyesen élte le: teljesítette a kötelességeit, megadta a módját az ünneplésnek, és felkészült a túlvilági életre. Vajon milyen ige hiányzik a kipontozott helyekről? Válasszátok ki a legmegfelelőbbet!

Szerettem a jót és(A) a rosszat: a napot kötelességszerűen töltöttem. Az évet nem (B) egyetlen nappal sem, a szép órát nem pusztítottam el. (C) az éveket a földön, majd a temető útjaira léptem. (D) minden sírfelszerelést, amelyet az elhunytak számára készítenek. Olyan ember voltam, aki (E) napját, s követte óráját nap mint nap.

16. A) Szerettem a jót és a rosszat: a napot kötelességszerűen töltöttem.

1 pont

gyűlöltem ▼

17. B) Az évet nem egyetlen nappal sem, a szép órát nem pusztítottam el.

1 pont

rövidítettem meg ▼

18. C) az éveket a földön, majd a temető útjaira léptem.

1 pont

Eltöltöttem ▼

19. D) minden sírfelszerelést, amelyet az elhunytak számára készítenek.

1 pont

Elkészítettem ▼

20. E) Olyan ember voltam, aki napját, s követte óráját nap mint nap.

1 pont

megélte ▼

Nézzétek meg alaposan a tárgyat, amelyen a fenti felirat szerepel, és válaszoljatok a kérdésekre!



21. Milyen ókori kultúrához köthető ez a tárgy?

1 pont

- görög
- római
- egyiptomi
- etruszk
- sumer

22. Milyen írásmóddal írták le a szöveget?

1 pont

- hieratikus
- kopt
- hieroglif
- démotikus
- arab
- görög

23. Hogy hívják idegen szóval az ilyen típusú tárgyakat?

1 pont

- sztélé
- kudurru
- menu
- kenotáphium

24. Igaz vagy hamis?

7 pont

	igaz	hamis
Az ábrázolás legfontosabb alakja a középen ülő férfi.	<input checked="" type="radio"/>	<input type="radio"/>
Az ábrázoláson minden alak nyakéket visel.	<input checked="" type="radio"/>	<input type="radio"/>
A nőalak testét ugyanolyan színűre festették, mint a férfiét.	<input type="radio"/>	<input checked="" type="radio"/>
Az alakok parókát viselnek.	<input checked="" type="radio"/>	<input type="radio"/>
A jobboldalon álló alak füstölőt tart a kezében.	<input type="radio"/>	<input checked="" type="radio"/>
A pad két lábát madárkarom formájában mintázták meg.	<input type="radio"/>	<input checked="" type="radio"/>
A pad alatt kismajom ül.	<input type="radio"/>	<input checked="" type="radio"/>

Ruha teszi az embert

25. Párosítsátok a betűket az ókori ruhadarabok megnevezésével!

4 pont



A



B



C



D

A

B

C

D

pileus

toga

pallium

tunica

26. Kiket neveztek a rómaiak „togás népnek”?

1 pont

- a senatorokat
- a rómaiakat
- a latinul beszélőket
- a patríciusokat

27. Kiket neveztek „tunicás népnek”?

1 pont

- a latin szövetségeseket
- a hajósokat
- a görögöket
- a kétkezi munkásokat

28. Kiket neveztek „palliumosoknak”?

1 pont

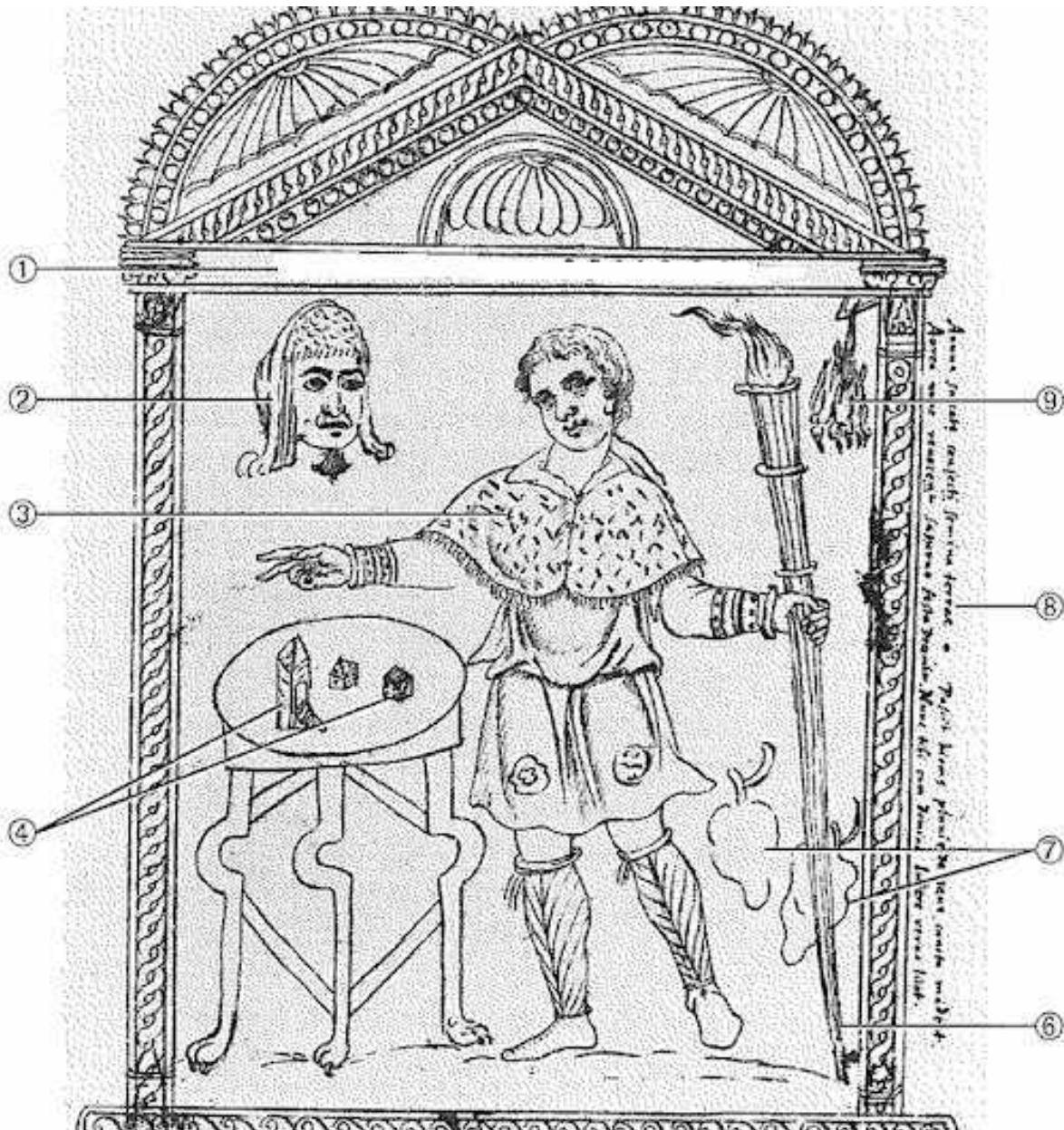
- a görögöket
- a karthagóiakat
- a színészeket
- a filozófusokat

29. Melyik római ünnepen hordtak a rabszolgák pileust?

1 pont

Saturnalia

30. Ennek az ünnepnek a szimbólumai és kellékei láthatók a rajzon. Mi szerepel rajta? 1 pont rajta?



- maszk
- mécses
- fáklya
- játékkocka
- bor
- sütemény
- gyümölcsök

elejtett madarak

koszorú

31. A fenti rajzon az emberalak ruházata (3-assal jelölve) milyen évszakra utal? 1 pont

tél

32. Gyász idején a római nők színű ruhát hordtak. 1 pont

fekete

fehér

kék

33. Melyik római tisztviselő nem hord bíborszegélyű togát? 1 pont

néptribunus

consul

dictator

34. A háztartás (oikosz) körül elvégzendő, alább felsorolt női munkák közül jelöld be azokat, amelyek kapcsolatba hozhatók a képpel!

1 pont



- gondoskodás az ételletről
- takarítás
- gyereknevelés
- ruhamosás
- vízhordás
- szövés

35. Ki látható a fenti képen?

1 pont

- apa
- nagyfiú
- kisfiú
- anya
- dajka
- nagymama

36. Milyen házimunkákat láttok a képeken?

1 pont



- ruhahajtogatás
- párnatömés
- ruhamosás
- ruhaillatosítás
- szövés
- fonás
- varrás

37. A képen három nő tisztálkodik a *lutérion*nak nevezett medencénél. Melyikükkel melyik márkát reklámoznátok?

3 pont



Persil

Dove

Taft

A



B



C



Mi folyik itt?

38. A vázákép Odüsszeusz és Nauszika találkozását ábrázolja. Mivel foglalatoskodik a többi lányalak?

1 pont




mosnak

39. Két nőalakot láttok a képen. Milyen tevékenység közben ábrázolja őket a vázafestő?

1 pont



- szórtelenítés
- gyapjúfonás
- lábmosás



- Útonálló leszállítja a szekérről az utasokat, hogy kirabolja őket.
- Vőlegény viszi a szülői házból el a menyasszonyt, ünnepi fáklyák kíséretében.
- Orpheusz vezeti fel az Alvilágból a lefátyolozott Eurüdikét.

41. Mely szavak jelölik a rómaiaknál a közfürdőt vagy egy részét?

1 pont

- balneum
- cavea
- thermae
- frigidarium
- thermopolium
- cisterna
- hypocaustum
- tepidarium

43. A képen látható római katolikus templomot az egyik fürdő egy részének átalakításával építették. Melyik ez a fürdő?

1 pont



Diocletianus-fürdő

44. Ki tervezte a fenti templomot?

1 pont

Michelangelo

Ízlés szerint

45. Marcus Apicius Gavius római szakács volt a Kr. u. 1. században.

1 pont

Szakácskönyve fönmaradt, sok-sok tanáccsal és recepttel. Milyen összetevők nem szerepelnek benne?

méz

cukor

só

burgonya

bors

őszibarack

kakaóbab

fahéj

olajbogyó

46. Igazak vagy hamisak az Apicius szakácskönyvével kapcsolatos állítások?

6 pont

	igaz	hamis
A görög alcímek arra utalnak, hogy a szerző görög minta alapján dolgozott.	<input checked="" type="radio"/>	<input type="radio"/>
Részletesen ír az élelmiszerek tartósításáról.	<input checked="" type="radio"/>	<input type="radio"/>
Egész fejezet szól az asztalterítésről és lakomai etiketről.	<input type="radio"/>	<input checked="" type="radio"/>
Csak egyszerű, könnyen beszerezhető hozzávalókból álló receptek sorakoznak benne.	<input type="radio"/>	<input checked="" type="radio"/>
Külön fejezet szól az előételekről.	<input checked="" type="radio"/>	<input type="radio"/>
Tenger gyümölcsei nem szerepelnek benne.	<input type="radio"/>	<input checked="" type="radio"/>

47. Nézzétek meg figyelmesen a görög ételkészítési eljárásokat ábrázoló képeket! Párosítsátok a képet a képaláírással! Figyelem: egy leíráshoz nem tartozik kép, ezt jelöljétek X-szel!

6 pont



	A	B	C	D	E	X
levesfőzés	<input type="radio"/>	<input type="radio"/>	<input type="radio"/>	<input type="radio"/>	<input checked="" type="radio"/>	<input type="radio"/>
pogácsasütés	<input checked="" type="radio"/>	<input type="radio"/>	<input type="radio"/>	<input type="radio"/>	<input type="radio"/>	<input type="radio"/>
tésztahajtogatás	<input type="radio"/>	<input checked="" type="radio"/>	<input type="radio"/>	<input type="radio"/>	<input type="radio"/>	<input type="radio"/>
kenyérformázás	<input type="radio"/>	<input type="radio"/>	<input checked="" type="radio"/>	<input type="radio"/>	<input type="radio"/>	<input type="radio"/>
sodrófakölcsönzés	<input type="radio"/>	<input type="radio"/>	<input type="radio"/>	<input type="radio"/>	<input type="radio"/>	<input checked="" type="radio"/>
mozsártörés	<input type="radio"/>	<input type="radio"/>	<input type="radio"/>	<input checked="" type="radio"/>	<input type="radio"/>	<input type="radio"/>

48. Melyik alapanyagból nem főzhettek Pompeiiben?

1 pont

- ficus carica
- malum Punicum
- beta vulgaris
- solanum lycopersicum

49. Az alábbiak közül melyikben lehetett olajat tárolni?

1 pont

- asztragosz
- adüton
- amphoriskosz
- arüballosz
- abakosz

50. Az alábbi képen egy görög nő kis szobra látható, amint épp elfátyolozni készül az arcát. Az arc elfátyolozása és a lesütött szem egy görög fogalom látható megnyilvánulásai, amelyet „szégyenkezés, szemérmesség, diszkréció” szavakkal lehet magyarul körülírni. Hogy hangzik a görög szó?

1 pont



aidosz

51. A menyasszonyt szerint nem engedik átlépni a küszöbön, 1 pont
hanem a kísérői emelik át.

- görög szokás
- római szokás
- egyiptomi szokás

52. Mi a jelentése az *aquae et ignis communicatio* nevű római rítusnak? 1 pont

- A menyasszonynak tűzbe és vízbe kell nyúlnia.
- A vőlegénynek tűzbe és vízbe kell nyúlnia.
- A papnak tűzbe és vízbe kell nyúlnia.

53. „Ahol te Gaius, ott én Gaia.” 1 pont

- a római menyasszony mondása
- a görög menyasszony mondása
- az egyiptomi menyasszony mondása

54. Római szokás szerint ebben a hónapban nem jó házasodni:

1 pont

- március
- április
- május
- szeptember

55. A képen a vőlegény az esküvői szertartáson megragadja a menyasszony csuklóját. Kik a menyasszony körüli szárnyas alakok? A görög nevüket írtátok be!

1 pont



Erószok

56. A fenti képen mit tart a kezében a jobb szélén álló nőalak?

1 pont

- fúvós hangszereket
- karmesterpálcákat
- fáklyákat
- sodrófákat
- dobverőket

57. Dárda hegyével elválasztani a menyasszony haját...

1 pont

- egyiptomi szokás
- római szokás
- görög szokás

58., hogy esküvő után elégetik a kocsi tengelyét, hogy jelezzék: 1 pont
a menyasszonynak maradnia kell.

- boiótiai szokás
- arkadiai szokás
- korinthuszi szokás

59. Ez az irat egy házassági szerződés szövegét őrzi, amely meghatározza az örökösödés rendjét, és rendelkezik a vagyonmegosztásról, ha a házasság válással végződné. Mire írták a szerződést és hol?

1 pont



- fatáblára Szíriában
- vászonra Rómában
- osztrakonra Hellaszban
- papiruszra Egyiptomban
- bronzlemezre Etruriában

Hány az óra?

60. Melyik állítás igaz az alábbiak közül?

1 pont

- Az egyiptomiak a nap 24 óráját 12 nappali és 12 éjszakai órára osztották, amelyek mind hatvan percből álltak.
- Az egyiptomiak kizárólag a nap és a csillagok járásából következtettek az idő múlására, nem használtak órákat.
- Egy egyiptomi hét tíz nappal állt.
- Egyiptomban nem különböztették meg egymástól a munkanapokat és az ünnepnapokat.
- A 12 egyiptomi hónap összesen 365 napot tett ki.

61. Melyek azok az időegységek, amelyben nem számoltak az ókori egyiptomiak?

1 pont

- pillanat
- perc
- óra
- nap
- hónap
- év
- évszázad

62. Mi volt régen az év első hónapja a rómaiaknál?

1 pont

- március
- január
- december
- szeptember

63. Az egyik isten tulajdonjogi vitába keveredett egyik testvérével, miután más útra terelte annak jószágállományát. A hét melyik napját jelölték ennek az istennek a római nevével? Írjátok be a nap magyar nevét!

1 pont

szerda

Egy kis matek

64. Melyik összegből tudtatok volna a legtöbbet vásárolni?

1 pont

- 10 sestertius
- 5 denarius
- 20 as

65. Mi hiányzik a szavak elejéről?

1 pont

...ptolemosz, ...atlon, ...szmegisztosz, ...angulum

tri

66. Melyik szó nem görög eredetű az előbb felsoroltak közül? Írjátok be a teljes szót! 1 pont

triangulum

67. A görögök betűkkel jelölték a számokat. Az alábbiak közül jelöljétek meg azt a választ, amelyikben a következő számok jelei állnak egymás után: 1 pont

- Az Odüsszeia azon énekének a száma, amelyikben a főhős meglátogatja az Alvilágot.

- Ennyi énekből áll Vergilius mezőgazdasági tankölteménye, a Georgica.

- Ennyi unciát ért egy denarius Rómában.

- A Héliopoliszban tisztelt istencsoport tagjainak száma.

α' ε' , ακ' γ'

, ια' ιβ' ρκ' θ'

ια' δ' ρκ' θ'

κγ' δ' ι' ιβ'

Pompeii utcáin

68. A római lakóházak homlokzata közvetlenül az utcára nézett. 1 pont

igaz

hamis

69. Mit jelent a *taberna*?

1 pont

- Ókori világító alkalmasosság, a mai lámpa őse.
- A római házak elején, az utcafrontra nyíló üzlethelyiség vagy műhely.
- Oltár közepére állított szentély.

70. Mi lehetett a képen látható helyiség pontos funkciója?

1 pont



- mosoda
- gyorsétterem
- szabóműhely

71. Hogyan nevezték az ilyen funkciójú helyiségeket latinul?

1 pont



thermopolium

triclinium

hospitium

72. Mik találhatók meg a képen szereplő helyiségben a felsoroltak közül?

1 pont



- házi szentélyt ábrázoló freskó
- szervírozó tálak
- pult
- az étterem logója
- ételtároló edények
- étlap
- mosdókagylók

73. Melyik pompeii freskó ábrázol ebben a helyiségben zajló jelenetet?

1 pont



A



B



○ c

74. Melyik freskó ábrázolja az itt látható, megkövesedett leletet?

1 pont





A



B



C

75. Mi lehetett a funkciója annak a helyiségnek, ahonnan ez a lelet előkerült?

1 pont



- pékség
- dekorációs üzlet
- kerégyártó műhely

76. Hogyan nevezték ezeket a helyiségeket latinul?

1 pont

- piscina
- pistrinum
- pistor

77. A képen egy ilyen helyiség maradványait látjátok. Mire szolgált az A betűvel jelölt építmény? 1 pont



- kemence
- hálókamra
- szeméttároló
- malomkő

78. Mire szolgált a B betűvel jelzett építmény?

1 pont

- kemence
- hálókamra
- kémény
- szeméttároló
- malomkő

Egyiptomból jöttem, mesterségem címere...

79. Melyik foglalkozást melyik kép ábrázolja? Amihez nem tartozik illusztráció, 12 pont azt jelöljétek X-szel!



	1	2	3	4	5	6	7	8	x
kertész	<input type="radio"/>	<input type="radio"/>	<input type="radio"/>	<input type="radio"/>	<input type="radio"/>	<input type="radio"/>	<input type="radio"/>	<input checked="" type="radio"/>	<input type="radio"/>
szövőő	<input type="radio"/>	<input type="radio"/>	<input type="radio"/>	<input type="radio"/>	<input type="radio"/>	<input type="radio"/>	<input type="radio"/>	<input type="radio"/>	<input checked="" type="radio"/>
orvos	<input type="radio"/>	<input type="radio"/>	<input type="radio"/>	<input type="radio"/>	<input type="radio"/>	<input type="radio"/>	<input type="radio"/>	<input type="radio"/>	<input checked="" type="radio"/>
pedikúrő	<input type="radio"/>	<input type="radio"/>	<input type="radio"/>	<input type="radio"/>	<input type="radio"/>	<input type="radio"/>	<input checked="" type="radio"/>	<input type="radio"/>	<input type="radio"/>
féműves	<input type="radio"/>	<input type="radio"/>	<input checked="" type="radio"/>	<input type="radio"/>	<input type="radio"/>	<input type="radio"/>	<input type="radio"/>	<input type="radio"/>	<input type="radio"/>
szakács	<input type="radio"/>	<input type="radio"/>	<input type="radio"/>	<input type="radio"/>	<input type="radio"/>	<input type="radio"/>	<input type="radio"/>	<input type="radio"/>	<input checked="" type="radio"/>
pap	<input checked="" type="radio"/>	<input type="radio"/>	<input type="radio"/>	<input type="radio"/>	<input type="radio"/>	<input type="radio"/>	<input type="radio"/>	<input type="radio"/>	<input type="radio"/>
írök	<input type="radio"/>	<input type="radio"/>	<input type="radio"/>	<input type="radio"/>	<input type="radio"/>	<input checked="" type="radio"/>	<input type="radio"/>	<input type="radio"/>	<input type="radio"/>

zenész



ács



katona



kőfaragó



kőfaragó



varázsló



Milyen mesterségre vonatkoznak az alábbi szövegek?

81. A folyón robotol, krokodilok a társai. Ha a kirótt kapást nem teljesíti, kesereg. Nem mondhatja, hogy: „A krokodil ott volt!” Vakká teszi a félelem.

1 pont

halász

82. Úgy, miként a szamár, a hátán cipeli holmiját. Testét kizsigerelek, halott ő már, pedig még él. Szíriába parancsolják, holott még ki sem pihente magát, agyongyötrik menetelésekkel.

1 pont

katona

83. Mindenféle szennel piszkolja be magát, nincs tagja, mely tiszta lenne. Még a menstruáló asszony kötőjét is neki adják. Sírva tölti a napot, sulykolókövel a kezében.

1 pont

ruhamosó

84. Ismerem a négyzetháló felosztását, a helyes arányok kimérését, a kivésést és a bemélyítést, amint azt kifaragják vagy bemélyítik, s így egy testrész a helyére kerül. Ismerem, hogyan kell elkészíteni a színeket és a berakásokat úgy, hogy se tűz ne égesse meg őket, se víz ne ártson nekik. 1 pont

kézműves

85. Egy egyiptomi építész, Nekhebu a következőképpen számol be hivatali felemelkedéséről:

6 pont

Őfelsége egyszerű építészként talált rám, s Őfelsége kinevezett az építészek felügyelőjévé és csoportvezetővé, (majd) az építészek előljárójává es csoportvezetővé. Őfelsége kinevezett királyi építőmesterré, (majd) királyi szolgává es királyi építőmesterré. Őfelsége kinevezett egyetlen barátta, majd építőmesterré a Két Házban. Mikor Őfelsége mindezeket tette, nagyon dicsért engem.

A szöveg alapján jelöljétek, hogy milyen sorrendben nyerte el Nekhebu az egyes tisztségeket!

	1	2	3	4	5	6
egyetlen barát	<input type="radio"/>	<input type="radio"/>	<input type="radio"/>	<input type="radio"/>	<input checked="" type="radio"/>	<input type="radio"/>
építészek felügyelője	<input type="radio"/>	<input checked="" type="radio"/>	<input type="radio"/>	<input type="radio"/>	<input type="radio"/>	<input type="radio"/>
királyi szolga és királyi építőmester	<input type="radio"/>	<input type="radio"/>	<input type="radio"/>	<input checked="" type="radio"/>	<input type="radio"/>	<input type="radio"/>
építészek előljárója	<input type="radio"/>	<input type="radio"/>	<input checked="" type="radio"/>	<input type="radio"/>	<input type="radio"/>	<input type="radio"/>
királyi építőmester a Két Házban	<input type="radio"/>	<input type="radio"/>	<input type="radio"/>	<input type="radio"/>	<input type="radio"/>	<input checked="" type="radio"/>
építész	<input checked="" type="radio"/>	<input type="radio"/>	<input type="radio"/>	<input type="radio"/>	<input type="radio"/>	<input type="radio"/>

Hellaszból jöttem, mesterségem címere...

86. A képeken mesterembereket láthattok. Párosítsátok a képeket a mesterséget reprezentáló nevekkal!

6 pont



	A	B	C	D	E	F
Szimón	<input type="radio"/>	<input type="radio"/>	<input type="radio"/>	<input type="radio"/>	<input checked="" type="radio"/>	<input type="radio"/>
Oltosz	<input checked="" type="radio"/>	<input type="radio"/>	<input type="radio"/>	<input type="radio"/>	<input type="radio"/>	<input type="radio"/>
Mürón	<input type="radio"/>	<input type="radio"/>	<input type="radio"/>	<input type="radio"/>	<input type="radio"/>	<input checked="" type="radio"/>
Euphroniosz	<input type="radio"/>	<input checked="" type="radio"/>	<input type="radio"/>	<input type="radio"/>	<input type="radio"/>	<input type="radio"/>
Epeiosz	<input type="radio"/>	<input type="radio"/>	<input checked="" type="radio"/>	<input type="radio"/>	<input type="radio"/>	<input type="radio"/>
Héphaisztosz	<input type="radio"/>	<input type="radio"/>	<input type="radio"/>	<input checked="" type="radio"/>	<input type="radio"/>	<input type="radio"/>

87. A képen egy asztalos az utolsó simításokat végzi a megrendelt faládán.

1 pont


Keressetek olyan mitikus történetet, amelyben szerepel láda, király (a képen a bal szélen), anya (középen) és kisleány (szolgálólány kezében)! Ki a kisleány? A nevét írjátok be!



Perszeusz


88. Határozzátok meg a vázát díszítő mezőgazdasági jelenetek sorrendjét!. A képmezők jeleit írjátok egymás mellé, írásjelek és szóközök nélkül.

1 pont



89. Ki kicsoda a képen? Adjátok meg a betűjelét!

4 pont



A

B

C

D

kitharisztész

paisz

paidagógosz

grammatisztész

90. Melyik mesterség jelmondata az alábbi vers?

1 pont

„Az élet rövid, a mesterség hosszú. / Az alkalmas pillanat gyorsan elszáll. / A kísérletezés veszélyes. / A döntés pedig nehéz.”

katonák

költők

orvosok

Értelmezzétek az alábbi mondatokat, majd jelöljétek őket a megfelelő betűvel!

A: Az állítás igaz, az indoklás is igaz, és van közöttük összefüggés.

B: Az állítás igaz, az indoklás is igaz, de nincs közöttük összefüggés.

C: Az állítás igaz, az indoklás viszont hamis.

D: Az állítás hamis, az indoklás viszont igaz.

E: Az állítás hamis és az indoklás is hamis.

91. Egyiptomban az adót természetben kellett megfizetni, ezért a városokban hatalmas raktárakat építettek.

1 pont

A ▼

92. Az egyszerű egyiptomi emberek általában kukoricáslepényt ettek, mert a lepényféléket kemence nélkül, nyílt láng fölött is könnyen át lehetett sütni.

1 pont

D ▼

93. Az egyiptomi lakóházak szellőzőnyílásai az épület lábazatán helyezkedtek el, mert az emberek féltek a túlzott napsütéstől. 1 pont

E ▼

94. Az egyiptomiak az 'édes' jelentésű *nedzsem* szót a szentjánoskenyérfa termésére emlékeztető hieroglif jellel ábrázolták, ugyanis nem ismerték a cukrot és a mézet, s ezek helyett a szentjánoskenyér magját használták édesítőszerként. 1 pont

C ▼

95. Az egyiptomiak általában fehér vagy nyers színű ruhában jártak, mert a vörös színt a káosz pusztító erőivel társították. 1 pont

B ▼

Hős munka közben

96. Az alábbi vázaképen középen egy igen ismert hérósztr láthattok, kevésbé hősiés, ámbár nagy türelmet igénylő tevékenység közben. Milyen – csupán hangzásra – hétköznapi feladatokat vitt véghez ez a személy?

1 pont



- megkért valakit, hogy hozzon pár almát a kertből
- elhagyta fél pár cipőjét
- sikerrel koncentrált, hogy ne veszítse el a fonalat
- megsétáltatott egy, az átlagosnál többet csaholó kutyát
- vendégségben járva elmesélte, merre járt a megérkezése előtt

97. Mellette mindkét oldalon egy-egy férfialak ücsörög a sziklán. Mit tartanak a kezükben? 1 pont

- Az egyik háromágú szigonyt, a másik sétapálcát.
- Az egyik háromágú szigonyt, a másik kérékeiont.
- Az egyik villámot szimbolizáló botot, a másik kérékeiont.

98. Válasszátok ki a rájuk vonatkozó igaz állítást!

1 pont

- Mindketten Zeusz fiai.
- Apa és fia.
- Mindketten házasok.
- Egyikük sem halandó.

BEKÜLDÉS

Biztosan elkészültetek és bekülditek a megoldást?

AZ EBBEN A MEZŐBEN SZEREPLŐ KÓD AZ ŰRLAP AZONOSÍTÁSÁRA
SZOLGÁL, NE MÓDOSÍTSÁTOTK!

*

-OCFe6sgzViEgmmzO8_z

Ezt a tartalmat nem a Google hozta létre, és nem is hagyta azt jóvá.

Google Űrlapok